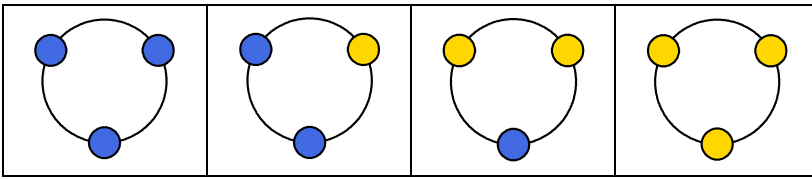


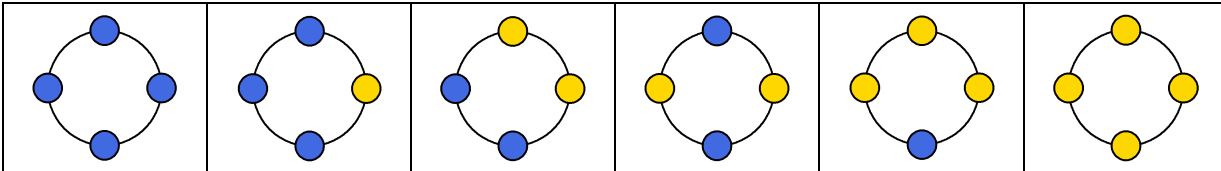
Blatt 11: Perlenketten

Um eine Perlenkette zu erstellen, stehen zwei verschiedene Farben für die Perlen zur Verfügung.

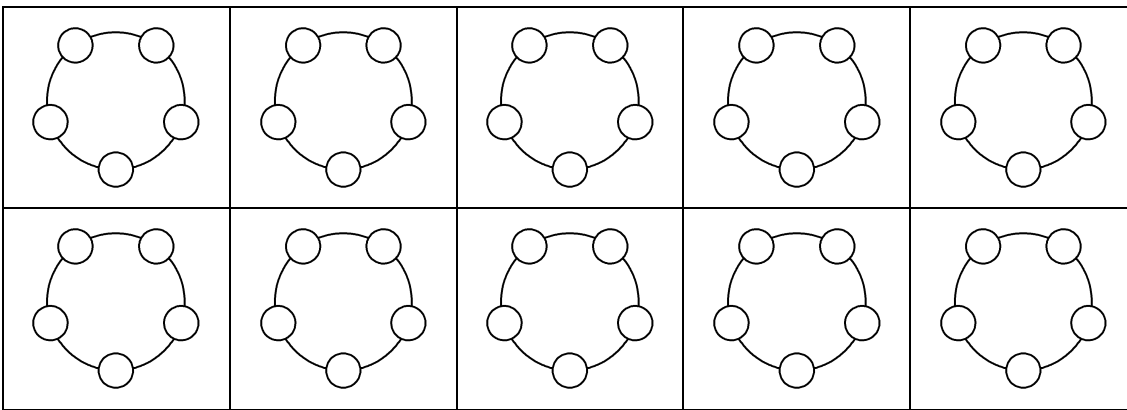
Dann gibt es vier Möglichkeiten, eine Perlenkette mit drei Perlen zusammenzustellen,



und sechs Möglichkeiten für eine Perlenkette mit vier Perlen.



- **Wie viele Möglichkeiten gibt es für Perlenketten mit fünf Perlen?**



- **Wie viele Möglichkeiten gibt es für Perlenketten mit sechs Perlen?**

